



# Institución Educativa La Milagrosa

Núcleo Educativo 926  
Carrera 29 Número 41-14 Telefax 221 5773 - 269 9965  
NIT: 811.017.366-7 DANE: 105001000418

## SEDE SANTO TOMÁS DE AQUINO

### PLAN DE MEJORAMIENTO ACADEMICO DE MATEMATICAS PERIODO 2

Nombre: \_\_\_\_\_ Grado: 1° 1 y 1° 2 Fecha: \_\_\_\_\_

1. Observa la tabla y colorea de rojo los números que terminan en 0 y de azul los que terminan en 5.

1	2	3	4	5	6	7	8	9	10
11	12	13	14	15	16	17	18	19	20
21	22	23	24	25	26	27	28	29	30
31	32	33	34	35	36	37	38	39	40
41	42	43	44	45	46	47	48	49	50

2. Escribe los números que faltan en cada casilla vacía.

1	2		4	5		7	8		10
11		13	14		16	17		19	20
	22	23		25	26		28	29	
31	32		34	35		37	38		40
41		43	44		46	47		49	50

3. Escribe el número que va después del último.

<b>15</b>	<b>16</b>	<b>17</b>	_____
<b>23</b>	<b>24</b>	<b>25</b>	_____
<b>31</b>	<b>32</b>	<b>33</b>	_____
<b>47</b>	<b>48</b>	<b>49</b>	_____



# Institución Educativa La Milagrosa


Núcleo Educativo 926  
Carrera 29 Número 41-14 Telefax 221 5773 - 269 9965  
NIT: 811.017.366-7 DANE: 105001000418

Y

4. Resuelve las sumas, escribiendo el resultado en la línea de abajo.

$\begin{array}{r} 23 \\ + \\ 15 \\ \hline \\ \hline \end{array}$	$\begin{array}{r} 17 \\ + \\ 22 \\ \hline \\ \hline \end{array}$	$\begin{array}{r} 28 \\ + \\ 14 \\ \hline \\ \hline \end{array}$	$\begin{array}{r} 19 \\ + \\ 26 \\ \hline \\ \hline \end{array}$
$\begin{array}{r} 31 \\ + \\ 18 \\ \hline \\ \hline \end{array}$	$\begin{array}{r} 24 \\ + \\ 25 \\ \hline \\ \hline \end{array}$	$\begin{array}{r} 33 \\ + \\ 16 \\ \hline \\ \hline \end{array}$	$\begin{array}{r} 27 \\ + \\ 21 \\ \hline \\ \hline \end{array}$

5. Resuelva las siguientes restas o sustracción:

$\begin{array}{r} 28 \\ - \\ 15 \\ \hline \end{array}$	$\begin{array}{r} 48 \\ - \\ 25 \\ \hline \end{array}$	$\begin{array}{r} 95 \\ - \\ 11 \\ \hline \end{array}$	$\begin{array}{r} 46 \\ - \\ 24 \\ \hline \end{array}$
$\begin{array}{r} 88 \\ - \\ 12 \\ \hline \end{array}$	$\begin{array}{r} 36 \\ - \\ 26 \\ \hline \end{array}$	$\begin{array}{r} 69 \\ - \\ 57 \\ \hline \end{array}$	$\begin{array}{r} 22 \\ - \\ 11 \\ \hline \end{array}$
$\begin{array}{r} 45 \\ - \\ 24 \\ \hline \end{array}$	$\begin{array}{r} 99 \\ - \\ 15 \\ \hline \end{array}$		
$\begin{array}{r} 79 \\ - \\ 12 \\ \hline \end{array}$	$\begin{array}{r} 72 \\ - \\ 31 \\ \hline \end{array}$		



# Institución Educativa La Milagrosa

Núcleo Educativo 926  
Carrera 29 Número 41-14 Telefax 221 5773 - 269 9965  
NIT: 811.017.366-7 DANE: 105001000418

6 Lee con atención cada problema, decide si debes sumar o restar, luego resuelve.

**Problema 1:** María tiene 23 stickers. Su mamá le da 15 stickers más. ¿Cuántos stickers tiene María en total?

Operación: \_\_\_\_\_  $\circ$  \_\_\_\_\_ = \_\_\_\_\_

**Respuesta:** María tiene \_\_\_\_\_ stickers.

**Problema 2:** En la tienda había 45 dulces. Los niños compraron 28 dulces. ¿Cuántos dulces quedaron en la tienda?

Operación: \_\_\_\_\_  $\circ$  \_\_\_\_\_ = \_\_\_\_\_

**Respuesta:** Quedaron \_\_\_\_\_ dulces.

Pregunta 7

**Instrucciones:** Lee cada situación y escribe **QUÉ** información se está recolectando.

**Situación A:** Una niña pregunta a sus amigos: "¿Cuál es tu color favorito?"

¿Qué información recolecta? \_\_\_\_\_

**Situación B:** Un niño cuenta cuántos estudiantes usan lentes en su clase.

¿Qué información recolecta? \_\_\_\_\_

**Situación C:** La maestra anota si cada día está soleado, nublado o lluvioso.

¿Qué información recolecta? \_\_\_\_\_









# Institución Educativa La Milagrosa

Núcleo Educativo 926  
Carrera 29 Número 41-14 Telefax 221 5773 - 269 9965  
NIT: 811.017.366-7 DANE: 105001000418

## Pregunta 8

**Instrucciones:** Pregunta a 10 compañeros: "¿Cuál es tu mascota favorita?" y marca con una X cada respuesta.

MASCOTA	RESPUESTAS (marca con X)	TOTAL
 Perro		_____
 Gato		_____
 Hámster		_____
 Pez		_____
 Pájaro		_____
 Conejo		_____


¿Cuál mascota fue la más elegida? \_\_\_\_\_

¿Cuál mascota fue la menos elegida? \_\_\_\_\_

## Pregunta 9

**Instrucciones:** Usa la información de las mascotas para completar este gráfico. Colorea una casilla por cada voto.

### GRÁFICO: MASCOTAS FAVORITAS



Números: 1 2 3 4 5 6 7 8 9 10



# Institución Educativa La Milagrosa

Núcleo Educativo 926  
Carrera 29 Número 41-14 Telefax 221 5773 - 269 9965  
NIT: 811.017.366-7 DANE: 105001000418

Pregunta 10.

**Instrucciones:** Pregunta a 10 compañeros cuál es su fruta favorita. Marca con palitos.

## Registro de votos:

Manzana 🍏: \_\_\_\_\_ Total: \_\_\_\_

Plátano 🍌: \_\_\_\_\_ Total: \_\_\_\_

Naranja 🍊: \_\_\_\_\_ Total: \_\_\_\_

Uvas 🍇: \_\_\_\_\_ Total: \_\_\_\_

## Gráfica de barras:



## Preguntas:

1. ¿Cuál fue la fruta MÁS votada? \_\_\_\_\_
2. ¿Cuál fue la fruta MENOS votada? \_\_\_\_\_
3. ¿Cuántos votos hubo en total? \_\_\_\_\_



# Institución Educativa La Milagrosa

Núcleo Educativo 926  
Carrera 29 Número 41-14 Telefax 221 5773 - 269 9965  
NIT: 811.017.366-7 DANE: 105001000418